



GEOGRAFÍA: PROGRAMA

Temario:

- ✓ La Geografía, su concepto. Sistema de coordenadas geográfica. Latitud y longitud. Paralelos y Meridianos. Orientación. Distribución de los continentes y océanos. Argentina: posición geográfica, superficie, límites y división política. Misiones, posición geográfica, superficie, límites y división política.

Bibliografía Recomendada:

- Cantero, Alberto Aníbal. Ciencias Sociales – Misiones, Editorial S.M, Buenos Aires, 2013.
- Ciencias Sociales 7. Editorial Santillana Hoy, Buenos Aires. 2019.

El alumno ingresante al LNMAS debe ser capaz de:

- Utilizar las coordenadas geográficas como recurso indispensable para la ubicación en la superficie terrestre.
- Reconocer la distribución de los continentes y océanos.
- Manejar e Interpretación correctamente la cartografía a partir del planisferio y de los mapas políticos de la Argentina y de Misiones.
- Reconocer la división política de nuestro país y de la provincia de Misiones.

MODELO DE EXAMEN DE GEOGRAFÍA N° 1.

Consignas

1. Unir con flechas según corresponda:

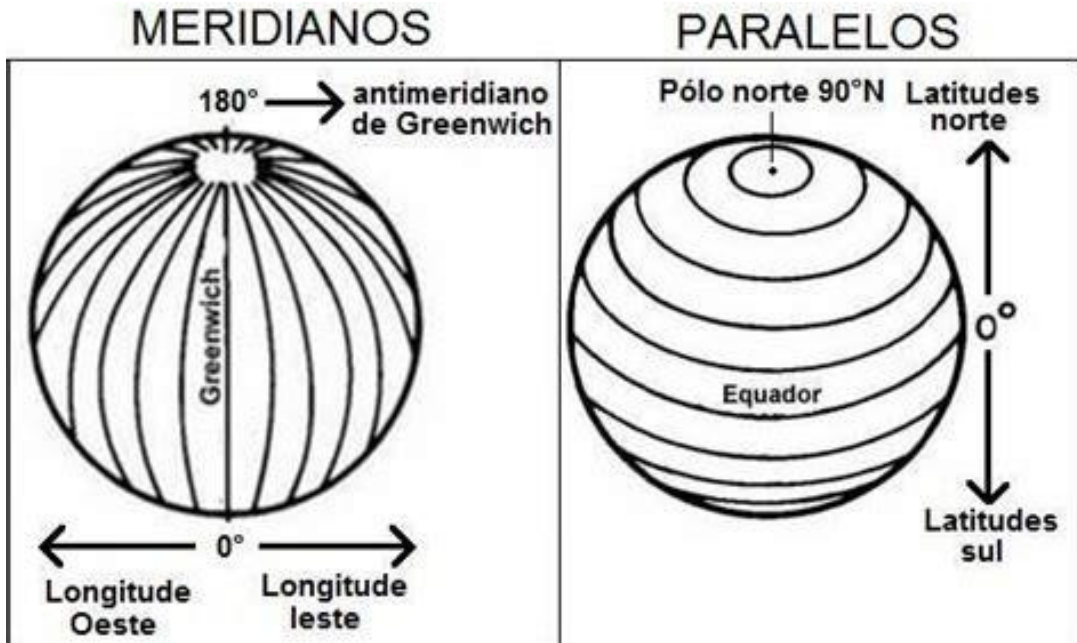
Meridional
Occidental
Oriental
Septentrional

Oeste
Norte
Sur
Este

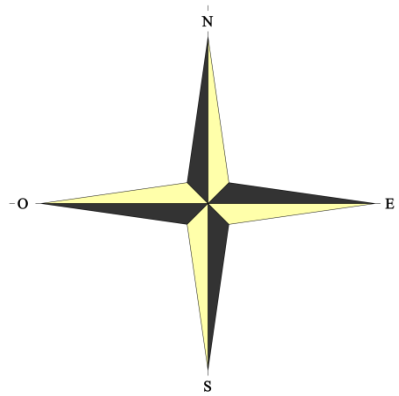
Boreal

Austral

2. Colorear según corresponda:
- En el gráfico de MERIDIANOS, pintar de color rojo el hemisferio ESTE y de azul el hemisferio OESTE.
 - En el gráfico de PARALELOS, pintar de color verde el hemisferio NORTE y de amarillo el hemisferio SUR.



3. Buscar en el diccionario y anotar el significado de las siguientes palabras: meridional, septentrional, oriental, occidental, boreal, austral.
4. Unir con la flecha las palabras que se refieren al mismo punto cardinal:
5. Observar la rosa de los vientos y escribir el nombre completo de los puntos cardinales intermedios.





6. Completar el espacio con cada una de estas palabras según corresponda:

MERIDIANO

PARALELO

ECUADOR

LONGITUD

LATITUD

_____ Es la distancia que hay de cualquier punto de la superficie terrestre al Ecuador.

_____ Es un círculo máximo que pasando por los polos divide a la Tierra en dos partes iguales.

_____ Es un círculo máximo que esta a igual distancia que los polos y divide la Tierra en dos hemisferios.

_____ Es la distancia que hay entre un punto cualquiera y el meridiano de origen.

_____ Son los círculos menores que rodean la Tierra paralelamente, formando los trópicos y los círculos polares.

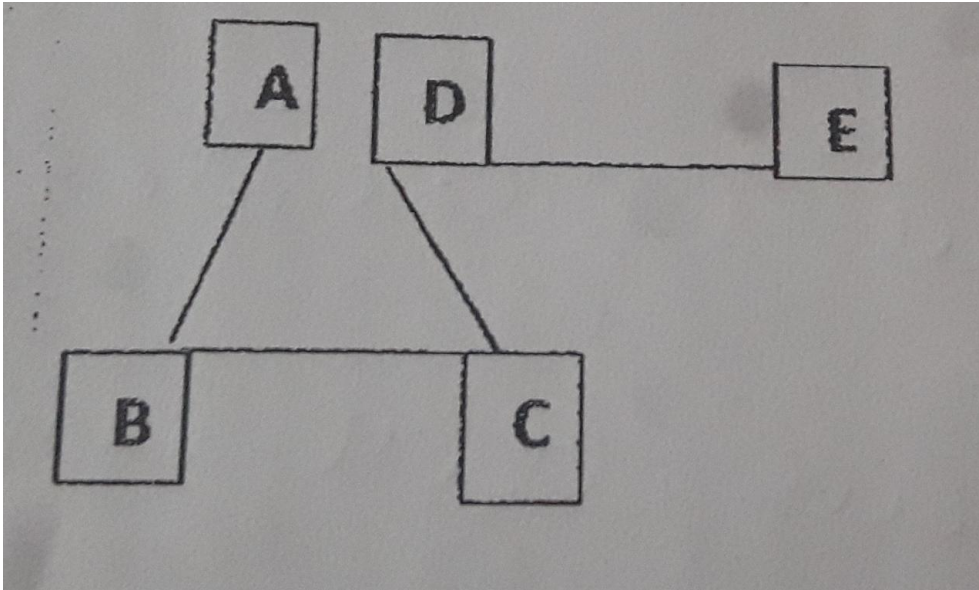
7. En el siguiente ejercicio señalar la dirección de los puntos:

A al B:

B al C:

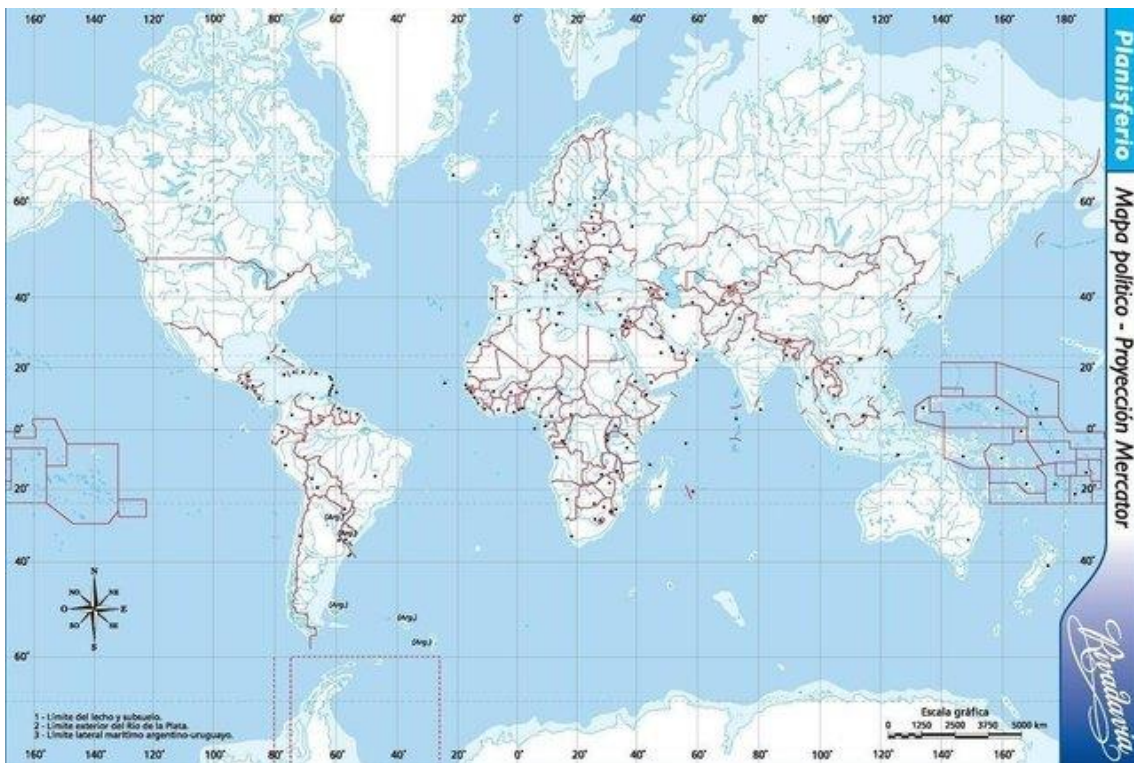
C al D:

D al E:



8. En un mapa planisferio político N° 3 localizar como corresponde:

- A) Continentes: América, Europa, Asia, África, Oceanía y Antártida.
- B) Océanos: Pacífico, Atlántico, Índico, Glacial Ártico y Glacial Antártico.



MODELO DE EXAMEN DE GEOGRAFÍA N° 2.

1- La línea del Ecuador, divide la tierra en dos hemisferios:



- a. Oeste y norte.
- b. Sur y este.
- c. Este y norte.
- d. Norte y sur.

2- El paralelo más importante que se ubica en el hemisferio norte del planeta es:

- a. El trópico de Capricornio.
- b. El trópico de Acuario.
- c. El trópico de Cáncer.
- d. El trópico del Ecuador.

3- El nombre de la línea imaginaria que divide al planeta en dos hemisferios (oriental y occidental) es:

- a. Polo norte.
- b. Línea del Ecuador.
- c. Meridiano. De Greenwich
- d. hemisferio sur.

4- La rosa de los vientos determina los:

- a. Paralelos.
- b. Solo el norte y sur.
- c. Los puntos cardinales.
- d. Meridianos.

5- Las coordenadas geográficas son:

- a. Sólo un conjunto de líneas imaginarias que no presentan ninguna importancia.
- b. Un conjunto de líneas reales que permiten ubicar con exactitud un lugar en la superficie terrestre.



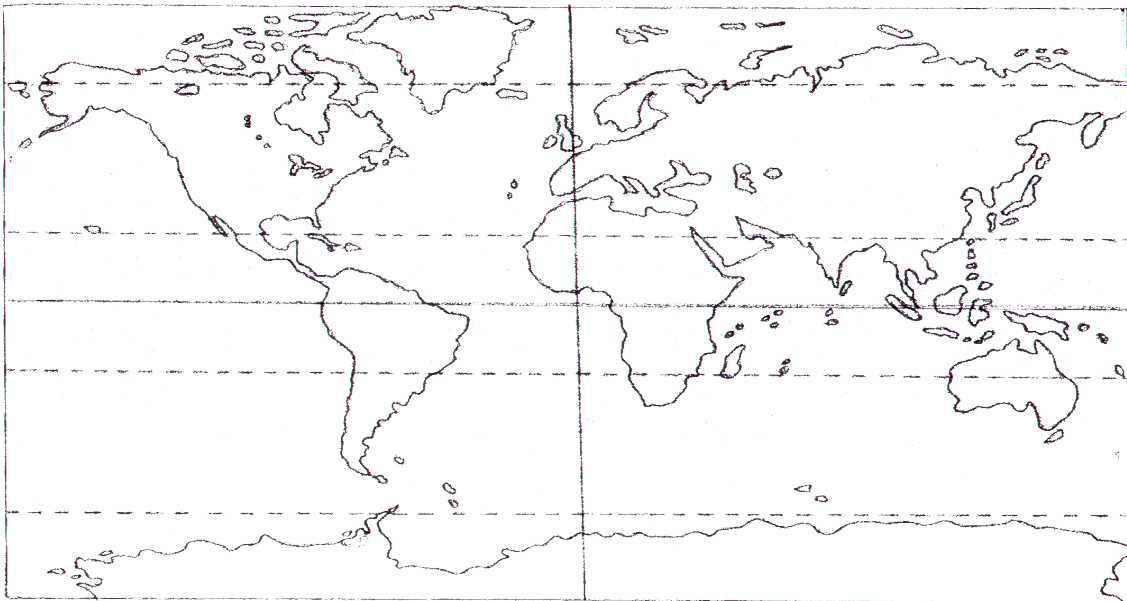
- c. Un conjunto de líneas imaginarias que permiten ubicar con exactitud un lugar en la superficie terrestre.
- d. Ninguna de las anteriores.

6- Completar la siguiente oración:

El Trópico de Cáncer atraviesa el hemisferio.....,
mientras que el de Capricornio atraviesa el
hemisferio.....

MODELO DE EXAMEN DE GEOGRAFÍA N° 3.

1- En el mapa impreso, resaltar con un color el continente americano.



2- Completar la siguiente oración:

El Trópico de Cáncer atraviesa el hemisferio.....,
mientras que el de Capricornio atraviesa el
hemisferio.....



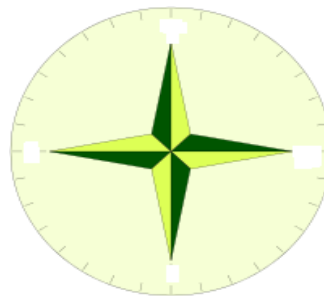
- ¿Qué estudia la Geografía?
- La orientación: Completar los puntos cardinales.



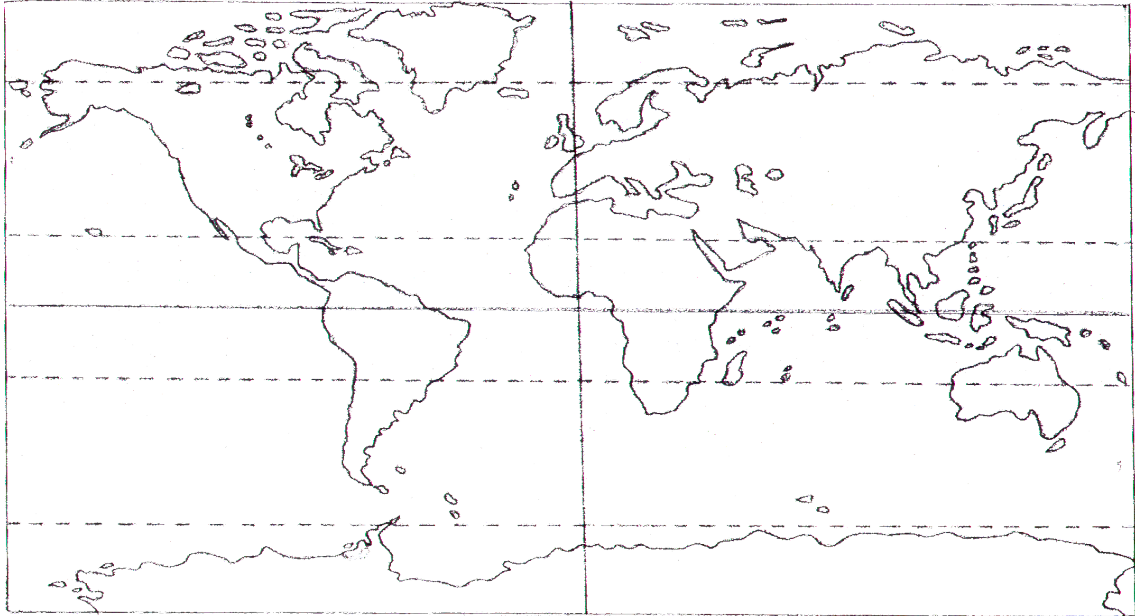
- Marcar en el planisferio impreso las principales líneas astronómicas: Ecuador, Meridiano de Greenwich, Trópico de Cáncer, Trópico de Capricornio, Círculo Polar Ártico y Círculo Polar Antártico.

MODELO DE EXAMEN DE GEOGRAFÍA N° 4.

- ¿Qué estudia la Geografía?
- ¿Cuáles son los trópicos que conoce?
- Indicar en el planisferio impreso los continentes y los océanos.
- Escribir en el gráfico los puntos cardinales correspondientes:



- Marcar en el planisferio las principales líneas astronómicas: Ecuador, Meridiano de Greenwich, Trópico de Cáncer, Trópico de Capricornio, Círculo Polar Ártico y Círculo Polar Antártico.



MODELO DE EXAMEN DE GEOGRAFÍA N° 5.

- 1- ¿En qué continente está ubicada la República Argentina?
- 2- ¿Con qué países limita?
- 3- ¿Qué océano baña las costas de nuestro país?
- 4- Completa el siguiente texto:

La República Argentina se encuentra dividida en.....

La Capital de nuestro país es:.....

- 5- Completar el siguiente cuadro con las provincias y capitales:

Provincia	Capital
LA PAMPA	
	RIO GALLEGOS
ENTRE RIOS	
	LA PLATA



CHUBUT	
	SANTA FE
MISIONES	
	RESISTENCIA

MODELO DE EXAMEN DE GEOGRAFÍA N° 6.

1- Marcar con una X lo correcto:

- La Argentina se encuentra localizada en el extremo sur del continente americano.
- El extremo norte de la Argentina está atravesado por el trópico de capricornio.
- La provincia de Misiones se encuentra localizada en el noroeste argentino.
- La superficie continental sudamericana de la Argentina es de 2.700.000 km² aproximadamente.

2- Unir con flechas – Departamentos y cabeceras de la provincia de Misiones:

DEPARTAMENTOS

CABECERAS

General Manuel Belgrano

Alba Posse

Guaraní

Santa Ana

Cainguás

Campo Grande

Iguazú

El Soberbio

25 de mayo

Puerto Esperanza

Lib. Gral. San Martín

Puerto Rico

Candelaria

Bernardo de Irigoyen

3- Latitud y Longitud:

Definir latitud y longitud.

Con ayuda de un planisferio físico político nro. 6, marcar en el mapa los siguientes puntos:



- 0° de latitud - 0° de longitud
- 30° latitud Sur – 120° de longitud Este
- 60° de latitud Norte – 90° de Longitud Oeste

Buscar las coordenadas geográficas (latitud y longitud) de las ciudades que abajo se detallan. Luego ubícalas en un mapa planisferio.

Buenos Aires. Lima. Bogotá. Brasilia. Ciudad de México. Ciudad de Panamá.
Posadas. Asunción.

4- Indicar en el mapa político de la Argentina lo siguiente:

- Provincias con sus respectivas capitales.
- Países con los cuales limita la Argentina y los océanos.

